





Verdoppeln und Halbieren




Ich habe 4 Bonbons und nehme 4 Bonbons hinzu. Ich habe die Bonbons **verdoppelt**. 8 ist **das Doppelte** von 4.



Ich habe 8 Bonbons. Ich teile sie in zwei gleich grosse Teile. Ich habe die Bonbons **halbiert**. 4 ist **die Hälfte** von 8.

1 Schreibe auf



Wie viele Rechtecke sind es? _____

Das Doppelte ist _____

Die Hälfte ist _____

2 Verdopple

Meine Zahl	5	19	21	32	37	44	50
Das Doppelte							

3 Halbiere

Meine Zahl	4	18	26	34	42	58	90
Die Hälfte							

4 Verdopple oder halbiere

Meine Zahl	5			8			40
Das Doppelte		12	14		18	20	



Verdoppeln und Halbieren

5

Schreibe eigene Zahlen und rechne

Meine Zahl							
Das Doppelte							

Meine Zahl							
Das Doppelte							

Meine Zahl							
Das Doppelte							

Meine Zahl							
Das Doppelte							

Meine Zahl							
Das Doppelte							

Meine Zahl							
Das Doppelte							

Meine Zahl							
Das Doppelte							

Meine Zahl							
Das Doppelte							